

PETEK, 24. 4. 2020

DODATNI POUK:

- Vaje za matematični **KENGURU** najdete na tem naslovu:

<https://www.dmfa.si/Tekmovanja/Kenguru/SpletnoTekmovanje.aspx>

- Vaje za matematično tekmovanje **LOGIČNA POŠAST** najdete na tem naslovu:

<https://sites.google.com/site/logicnaposast/>

SLOVENŠČINA:

VELIKA TISKANA ČRKA Š

- V **DZO**-ju na strani **46** si najprej dobro oglej, kako se črka Š pravilno napiše.

https://nasaulica.si/datoteke/Prikaz_pisanja_crk/story_html5.html

- Najprej vadi zapis mavrične črke Š v **brezčrtnem zvezku**, piši tudi besede, ki se začnejo na glas Š, nato pa reši naloge v **DZO/ 46, 47** in **beri besedila**.

MATEMATIKA:

PREVERI SVOJE ZNANJE

- Danes boš **samostojno** rešil/a učni list **PREVERJANJE ZNANJA**. Starše prosim, da mi fotografije rešenih nalog pošljejo na moj elektronski naslov. Hvala.

PREVERJANJE ZNANJA

1. ŠTEJ IN DOPOLNI.

1				5					
---	--	--	--	---	--	--	--	--	--

10						4			
----	--	--	--	--	--	---	--	--	--

1	3		7	
---	---	--	---	--

8	6		2	
---	---	--	---	--



2. SEŠTEJ.

$3 + 2 = \square$

$1 + 8 = \square$

$0 + 8 = \square$

$4 + 3 = \square$

$3 + 6 = \square$

$2 + 5 = \square$

3. ODŠTEJ.

$3 - 2 = \square$

$8 - 3 = \square$

$10 - 6 = \square$

$9 - 3 = \square$

$9 - 6 = \square$

$7 - 5 = \square$

4. SEŠTEJ ALI ODŠTEJ.

$3 + 3 = \square$

$6 - 5 = \square$

$10 - 8 = \square$

$4 - 3 = \square$

$8 - 6 = \square$

$1 + 6 = \square$

$2 + 4 = \square$

$10 - 0 = \square$

$9 - 5 = \square$

5. IZRAČUNAJ IN VSTAVI >, < =.

$9 \underline{\quad} 7$

$8 \underline{\quad} 10$

$* 6 \underline{\quad} 10 - 4$

$3 \underline{\quad} 6$

$9 \underline{\quad} 6$

$3 + 1 \underline{\quad} 6$

$7 \underline{\quad} 7$

$2 \underline{\quad} 3$

$2 + 7 \underline{\quad} 9 - 0$

6. UREDI ŠTEVILA PO VELIKOSTI.

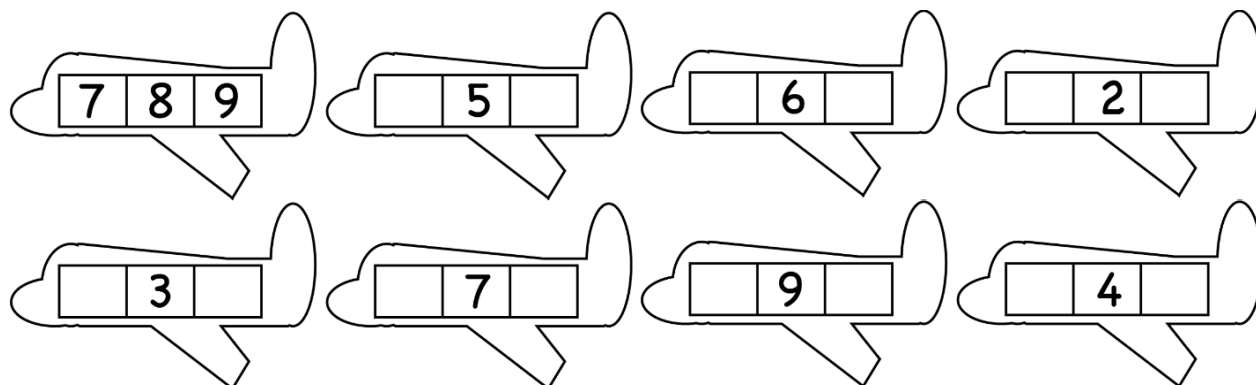
ZAČNI Z NAJMANJŠIM ŠTEVILOM.

9, 6, 1, 2, 8, 4



ZAČNI Z NAJVEČJIM ŠTEVILOM.

3, 10, 5, 2, 4, 8


7. VPIŠI PREDHODNIKE IN NASLEDNIKE ŠTEVIL.



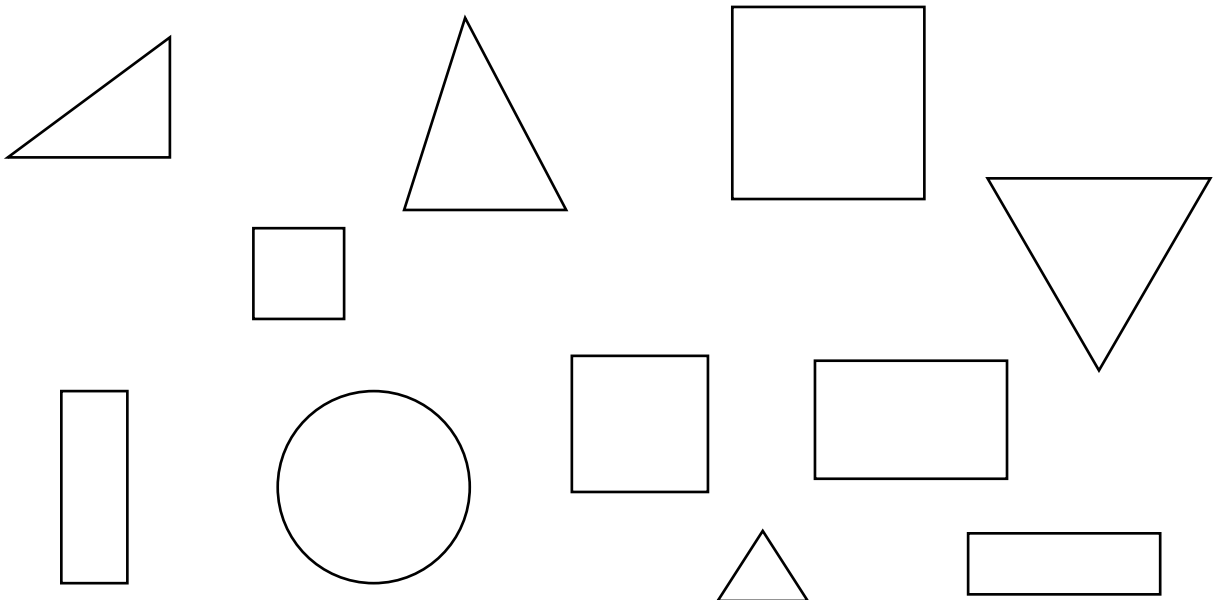
8. OPAZUJ SLIKO. NAPIŠI RAČUN IN IZRAČUNAJ.



9. NARIŠI 2 RAVNI ČRTI IN 2 KRIVI ČRTI.



10. POBARVAJ LIKE PO NAVODILIH.



BRAVO, USPELO TI JE!

SPOZNAVANJE OKOLJA:

SKRBIMO ZA ČISTOČO TELESA

- S starši se pogovori o **umivanju zob**. Povej, kako in kdaj si umivamo zobe. Ponovi, kako si pravilno umivamo zobe.
- **Osebna higiena**: S starši se pogovori, zakaj moramo paziti na osebno higieno: **umivanje rok, zob, telesa, čista obleka ...**
Naštej pripomočke, ki jih potrebujemo za umivanje.
- **Praktično delo**: pravilno si umij roke in se pogovori s starši, kdaj si jih moramo umivati.
- **Kadar zbolimo**: S starši se pogovori o boleznih, ki si jih prebolel. Povej, zakaj zbolimo in kaj naredimo, kadar smo bolni.
- Reši naloge v **DZ/ 61, 62**.

ŠPORT:


RISTANC

Igraj se igro ristanc ali fuč. ●

ŠT. IGRALCEV: dva ali več, lahko tudi eden

PRIPOMOČKI: kreda ali kamen za risanje, kamenček

Na asfalt s kredo narišemo ristanc. Izza črte vržemo kamenček v 1 polje. Nato skačemo po oštevilčenih poljih. Če je en kvadratak, vanj skočimo z eno nogo. Na desetki se obrnemo in nazaj grede poberemo kamenček. Če kamenček pade na črto ali če stopimo pomotoma na tla, gremo še enkrat od začetka, drugače nadaljujemo s številko 2 in tako dalje do 10.



ŽELIM TI LEPE PRVOMAJSKE POČITNICE!

Tvoja učiteljica Duška