

## PREVERJANJE ZNANJA

### MATEMATIKA

PREDEN ZAČNEMO SPOZNAVATI ŠTEVILA DO 20, BOŠ PREVERIL SVOJE ZNANJE PRI MATEMATIKI. NALOGE ZA PREVERJANJE ZNANJA SI LAHKO NATISNEŠ ALI PA REŠITVE NAPIŠEŠ V KARIRAST ZVEZEK ZA MATEMATIKO. NALOGE REŠUJ SAM, STARŠI NAJ TI SAMO PREBEREJO NAVODILA.

PREPRIČANE SMO, DA BOŠ NALOGE REŠIL BREZ TEŽAV, SAJ VSE TO ŽE ZNAŠ.





SPOŠTOVANI STARŠI, VAS PA PROSIMO, DA NAM REŠENE NALOGE POŠLJETE PO ELEKTRONSKI POŠTI NAJPOZNEJE DO **PETKA, 24. 4. 2020.**

1. VPIŠI MANJKAJOČE ŠTEVILKE.

		3				7			
10	9	8							



2. NARIŠI, KAR MANJKA. PREČRTAJ, KAR JE ODVEČ.

	8
	5
	10
	6

3. UREDI ŠTEVILA PO VELIKOSTI. ZAČNI Z NAJMANJŠIM.

**9 2 6 10 3 5**

--	--	--	--	--	--

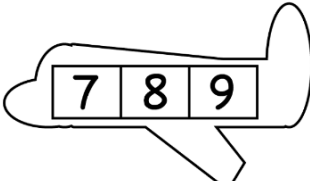
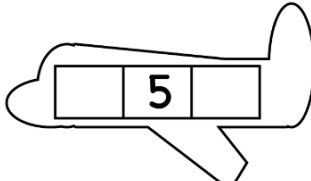
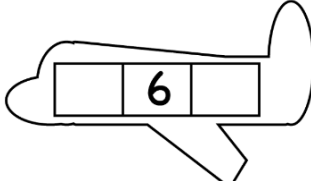
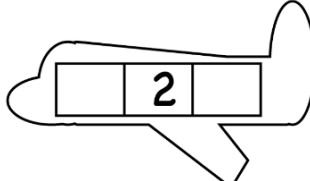
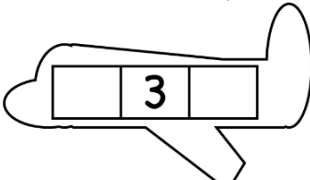
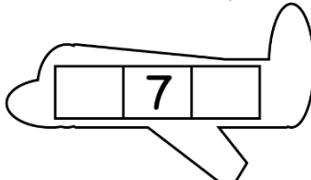
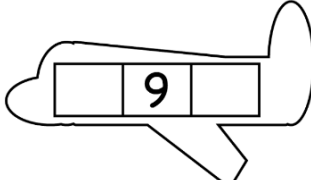
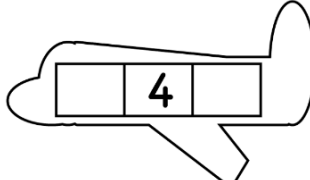
4. UREDI ŠTEVILA PO VELIKOSTI. ZAČNI Z NAJVEČJIM.

**4 2 9 0 3 7**

--	--	--	--	--	--



5. VPIŠI PREDHODNIKE IN NASLEDNIKE ŠTEVIL.

6. NADALJUJ ZAPOREDJE ŠTEVIL.


5 8 8 5 8 8 \_ \_ \_ \_ \_

2 7 6 2 7 6 \_ \_ \_ \_ \_

7. VSTAVI ZNAK <, > ALI =.

6  8    5  5    9  1    4  5    2  4    10  7

8. K SLIKI ZAPIŠI USTREZEN RAČUN IN IZRAČUNAJ.



9. IZRAČUNAJ.

$6 + 3 = \underline{\quad}$      $8 - 4 = \underline{\quad}$      $5 + 4 = \underline{\quad}$      $9 - 5 = \underline{\quad}$

$4 + 0 = \underline{\quad}$      $7 - 7 = \underline{\quad}$      $5 - 3 = \underline{\quad}$      $2 + 2 = \underline{\quad}$

$2 + 5 = \underline{\quad}$      $10 - 8 = \underline{\quad}$      $8 - 0 = \underline{\quad}$      $8 - 3 = \underline{\quad}$

$1 + 6 + 2 = \underline{\quad}$      $1 + 3 + 4 = \underline{\quad}$      $5 + 1 + 4 = \underline{\quad}$

10. POBARVAJ LIKE IN NJIHOVO ŠTEVILO VPIŠI V PREGLEDNICO.

